


# Le portail de jardin

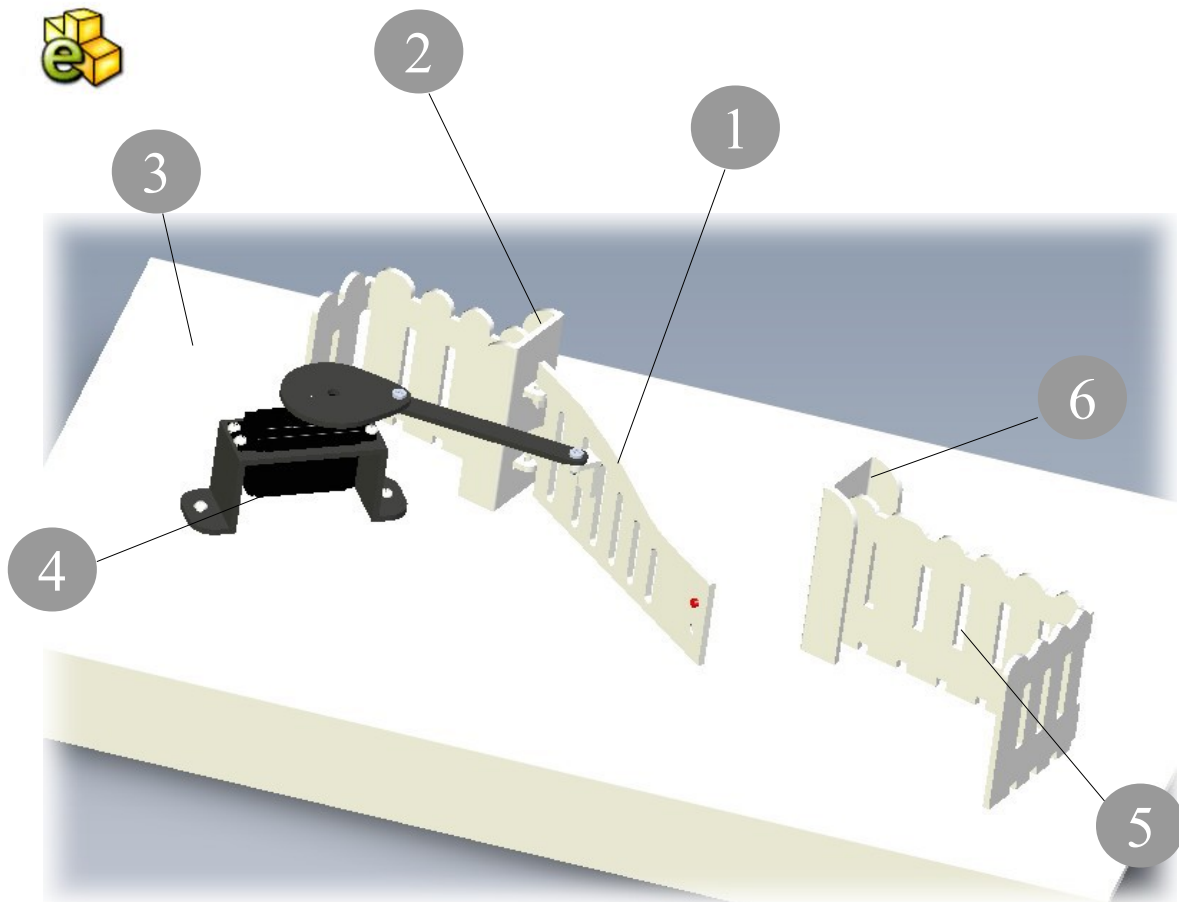
## Etude d'un objet technique

- *Fonctionnement d'un objet technique de la domotique*
- *Modélisation du réel*



Fonctionnement des objets de la domotique

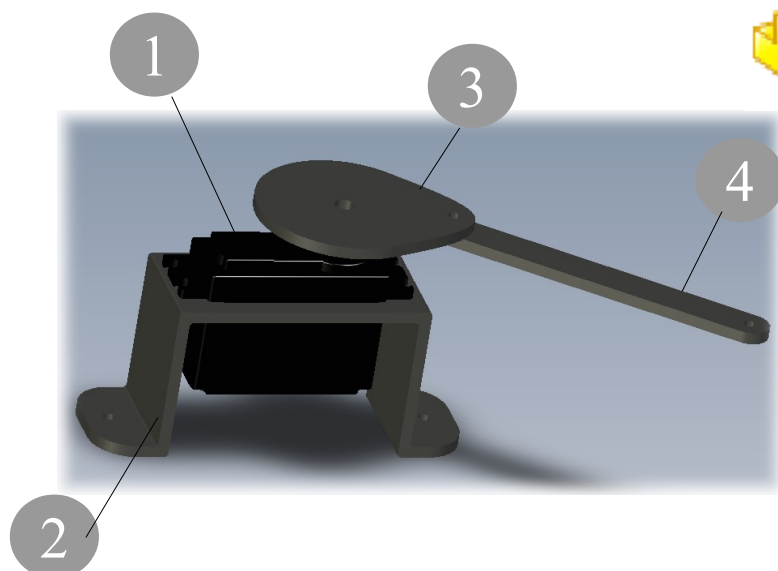
- Quel est l'objet technique étudié ?
- Quel logiciel utilisé pour visionner la maquette numérique de ce portail ?



- Quelle est le nom des pièces repérées ci-dessus ?
- Que représente chacune de ces icônes ?




■ Quelles pièces appartiennent à l'assemblage **Ass\_servo\_moteur**?



Ass\_servo\_moteur  
Document d'assemblage Solid...  
146 Ko

■ Comment est fixé le support du servomoteur sur le socle de la maquette ?

■ Quelle est cette pièce ? Quelle est sa fonction ?



■ Tracer un schéma qui décrit le fonctionnement du mécanisme d'ouverture et de fermeture du portail de jardin

## Ressources

► Présentation de l'activité

<http://technopen.free.fr/spip.php?rubrique2>

► Présentation de la maquette

<http://technopen.free.fr/spip.php?article79>

# Mon cours de Techno

<http://technopen.free.fr>



► [etude\\_portail\\_jardin\\_E1.pdf](#)